

Elementare Geometrie Vorlesung 8

Thomas Zink

17.5.2017

1. Die Spiegelung

Es sei $g \subset E$ eine Gerade in einer Ebene E im Raum. Wir drehen die Ebene E um die Achse g um 180° . Dadurch erhalten wir eine Abbildung $s_g : E \rightarrow E$. Wir nennen s_g die Spiegelung von E an der Achse g .

1. Die Spiegelung

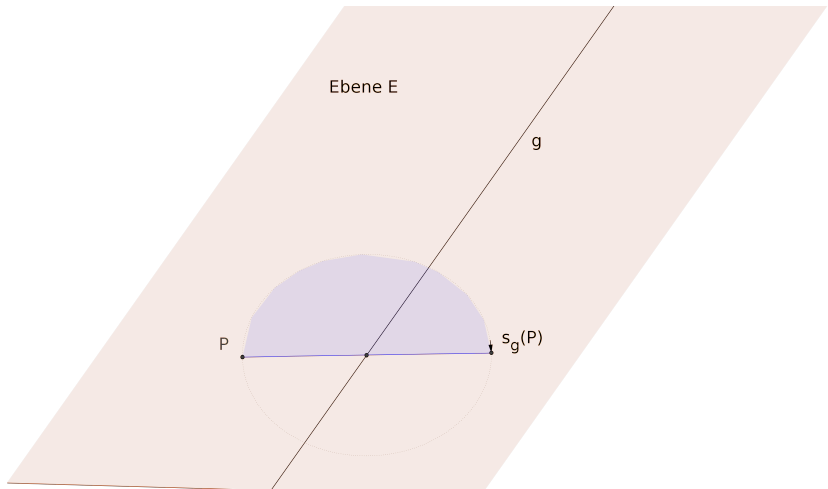
Es sei $g \subset E$ eine Gerade in einer Ebene E im Raum. Wir drehen die Ebene E um die Achse g um 180° . Dadurch erhalten wir eine Abbildung $s_g : E \rightarrow E$. Wir nennen s_g die Spiegelung von E an der Achse g .

Dann gilt:

$$s_g^2 := s_g \circ s_g = \text{id}_E.$$

$$s_g(A) = A, \quad A \in g,$$

$$|s_g(P)s_g(Q)| = |PQ|, \quad P, Q \in E.$$



2. Die Spiegelung

Es sei $P \notin g$. Offensichtlich liegen P und $s_g(P)$ auf verschiedenen Seiten der Geraden g .

2. Die Spiegelung

Es sei $P \notin g$. Offensichtlich liegen P und $s_g(P)$ auf verschiedenen Seiten der Geraden g .

Es genau einen Punkt P' , so dass g die Mittelsenkrechte von P und P' ist. Es gilt

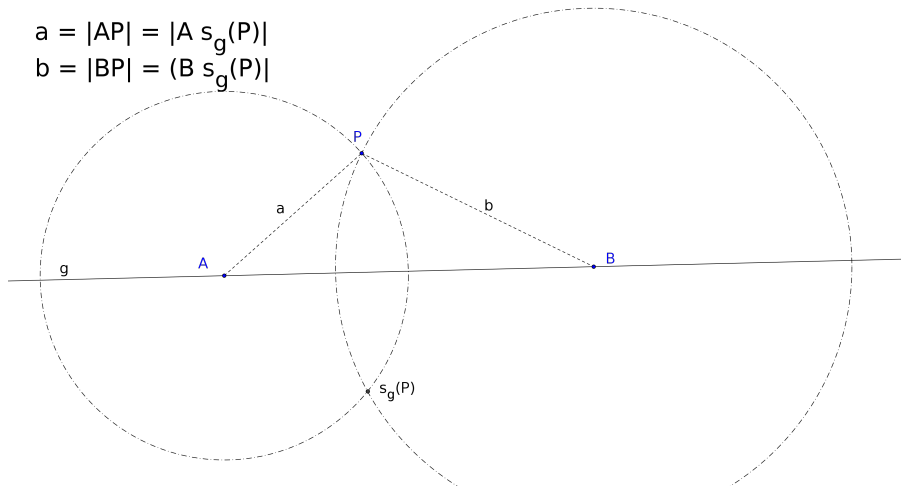
$$s_g(P) = P', \quad s_g(P') = P.$$

In der Tat: Es sei $A \in g$. Dann muss gelten:

$$|PA| = |s_g(P)s_g(A)| = |s_g(P)A|.$$

$$a = |AP| = |A s_g(P)|$$

$$b = |BP| = |B s_g(P)|$$



3. Zwei Seiten einer Geraden

In der letzten Zeichnung haben die Punkte P und $s_g(P)$ sowohl zu A als auch zu B den gleichen Abstand. Daher ist die Gerade $g = AB$ die Mittelsenkrechte zu P und $s_g(P)$.

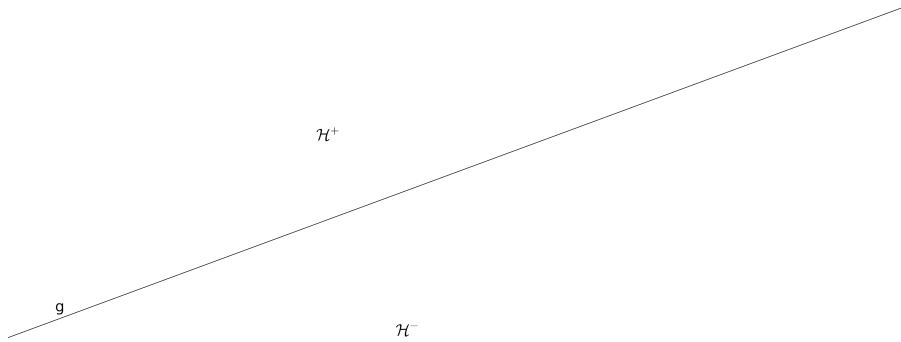
3. Zwei Seiten einer Geraden

In der letzten Zeichnung haben die Punkte P und $s_g(P)$ sowohl zu A als auch zu B den gleichen Abstand. Daher ist die Gerade $g = AB$ die Mittelsenkrechte zu P und $s_g(P)$.

Eine Gerade g in einer Ebene E zerlegt die Ebene in drei Teile

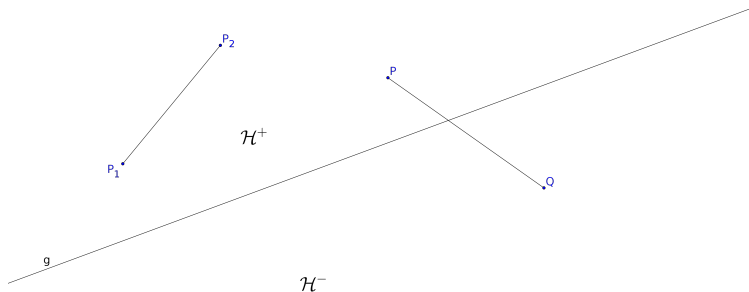
$$E = \mathcal{H}^+ \cup g \cup \mathcal{H}^-,$$

so dass jeweils zwei keine gemeinsamen Punkte haben.



4. Zwei Seiten einer Geraden

Die Verbindungsstrecke $\overline{P_1P_2}$ zweier Punkte $P_1, P_2 \in \mathcal{H}^+$ schneidet g nicht. Wenn dagegen $P \in \mathcal{H}^+$ und $Q \in \mathcal{H}^-$, so schneidet \overline{PQ} die Gerade g .



5. Ein kürzester Weg

Die Spiegelung s_g vertauscht die Seiten \mathcal{H}^+ und \mathcal{H}^- .

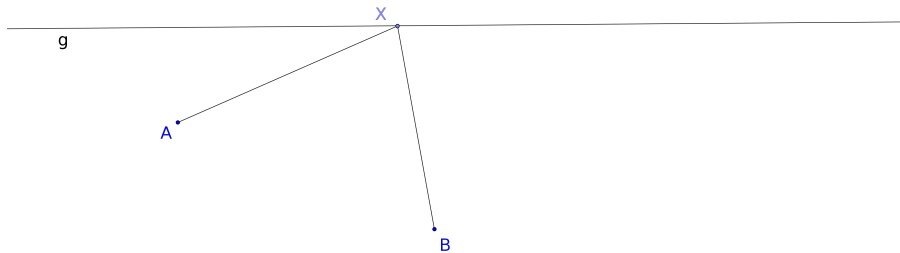
5. Ein kürzester Weg

Die Spiegelung s_g vertauscht die Seiten \mathcal{H}^+ und \mathcal{H}^- .

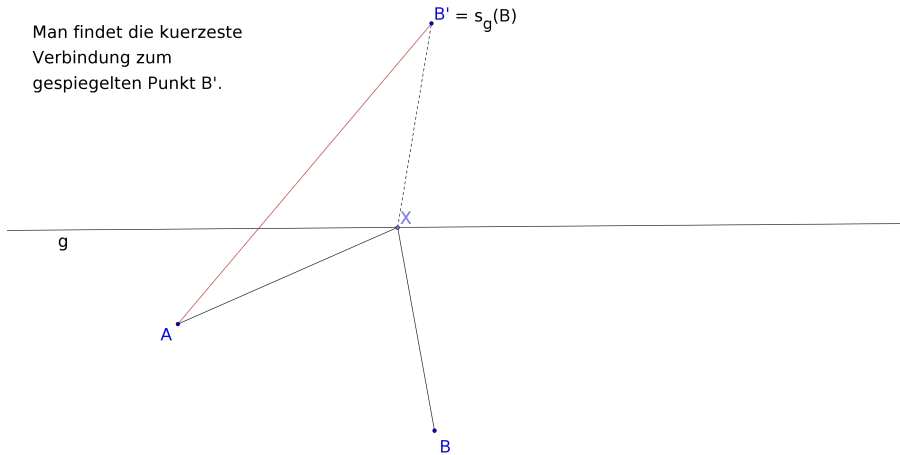
Aufgabe: Es seien $A, B \in \mathcal{H}^+$. Man finde einen Punkt $X \in g$, so dass

$$|AX| + |XB| = \text{Minimum.}$$

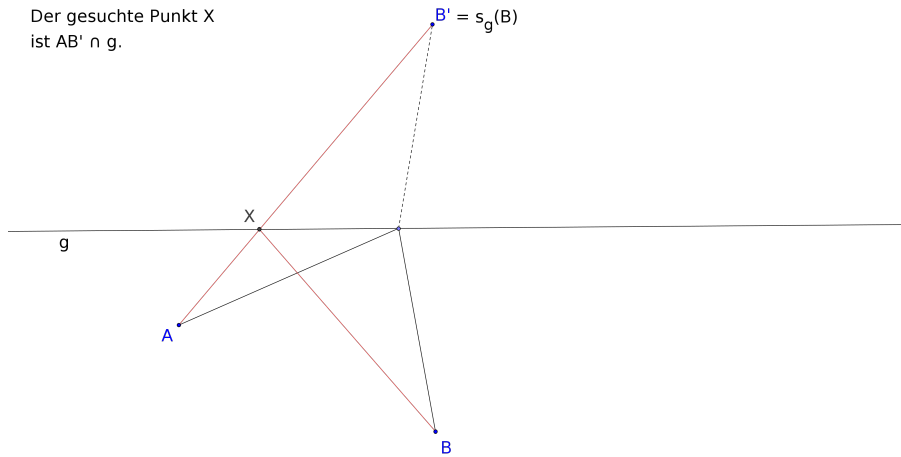
Wir raten einen Punkt X.



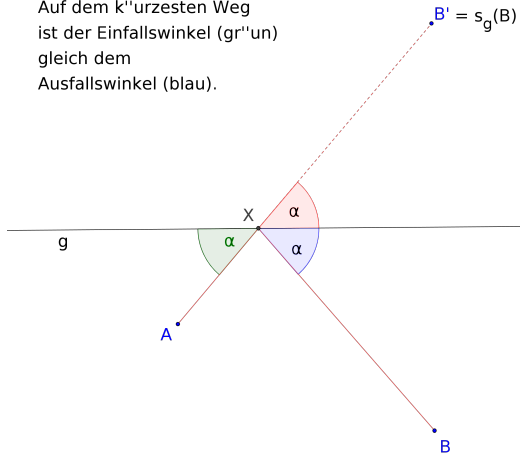
Man findet die kuerzeste
Verbindung zum
gespiegelten Punkt B'.



Der gesuchte Punkt X
ist $AB' \cap g$.



Auf dem k''urzesten Weg
ist der Einfallswinkel (gr''un)
gleich dem
Ausfallswinkel (blau).



6. Billiard

Beim Billiardspiel nimmt die Kugel den kürzesten Weg.
Angenommen wir wollen mit der Kugel A über die Bande g die Kugel B anspielen. Dann müssen wir auf das Spiegelbild $s_g(B)$ der Kugel B zielen.

6. Billiard

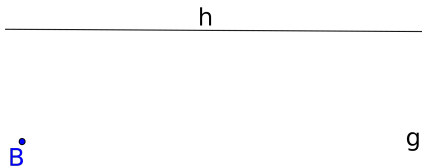
Beim Billiardspiel nimmt die Kugel den kürzesten Weg. Angenommen wir wollen mit der Kugel A über die Bande g die Kugel B anspielen. Dann müssen wir auf das Spiegelbild $s_g(B)$ der Kugel B zielen.

Man kann auch Billiard über zwei Banden spielen. Man will mit der Kugel A die Kugel B über die Banden g und dann h anspielen.

B'

Billiard ueber zwei Banden
von A nach B.

B''



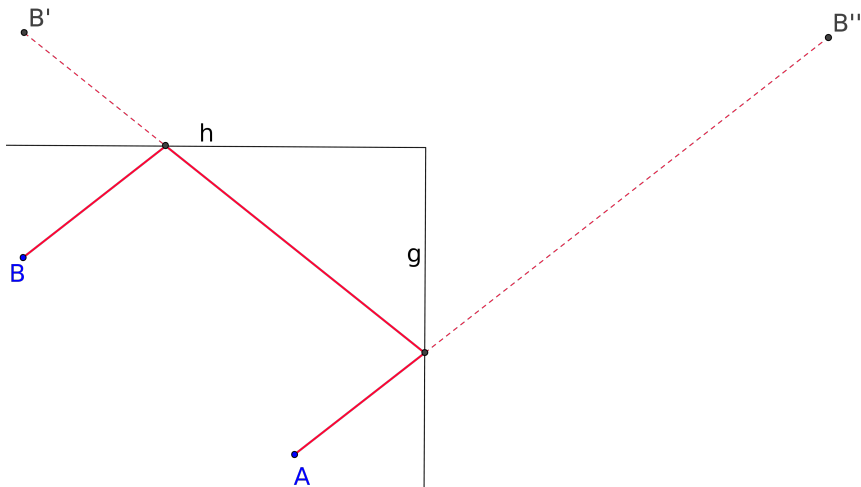
B' ist die Spiegung von B an der Bande h.
 B'' ist die Spiegung von B' an der Bande g.

A

Man spielt von A den Punkt B'' an.

7. Erklärung zum Billiard

Wenn man den Punkt B'' anspielt, trifft die Kugel auf die Gerade g und läuft dann zum Spiegelbild von B'' bezüglich der Gerade g . Das ist B' . Wenn die Kugel dann die Bande h trifft, so läuft sie zum Spiegelbild von B' bezüglich der Gerade h . Das ist der Punkt B .



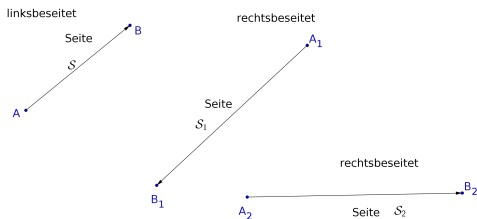
Man spielt von A den Punkt B'' an.

8. beseitete Strecken

Definition

Eine beseitete Strecke ist eine orientierte Strecke \overrightarrow{AB} mit einer ausgezeichneten Seite der Geraden AB .

Wenn dies die rechte Seite ist, sprechen wir von einer rechtsbeseiteten Strecke und sonst von einer linksbeseiteten.



9. Spiegelnd oder nicht spiegelnd

Es sei E eine Ebene und $f : E \rightarrow E$ eine Abbildung, die Geraden auf Geraden abbildet.

Definition

Man nennt f spiegelnd, wenn f rechtsbeseitete Strecken auf linksbeseitete abbildet und linksbeseitete auf rechtsbeseitete.

Man nennt f nichtspiegelnd, wenn f rechtsbeseitete Strecken auf rechtsbeseitete abbildet und linksbeseitete Strecken auf linksbeseitete.

Bewegungen sind nichtspiegelnd und Spiegelungen sind spiegelnd.

Definition

Es sei E eine Ebene. Eine Abbildung $f : E \rightarrow E$ heißt eine Isometrie, wenn sie die folgenden Eigenschaften hat:

- (1) f ist bijektiv.*
- (2) f bildet Geraden auf Geraden ab.*
- (3) Für alle $A, B \in E$ gilt:*

$$|f(A)f(B)| = |AB|$$

Zur Erinnerung: Eine Bewegung ist eine nichtspiegelnde Isometrie.

11. Definition der Bewegungen zum Vergleich

Definition

Es sei E eine Ebene. Eine Abbildung $f : E \rightarrow E$ heißt eine Bewegung, wenn sie die folgenden Eigenschaften hat:

- (1) f ist bijektiv.*
- (2) f bildet Geraden auf Geraden ab.*
- (3) Für alle $A, B \in E$ gilt:*

$$|f(A)f(B)| = |AB|$$

- (4) Es liege P rechts (bzw. links) von der orientierten Strecke \overline{AB} . Dann liegt $f(P)$ rechts (bzw. links) von der orientierten Strecke $\overline{f(A)f(B)}$.*

12. Der Hauptsatz über Isometrien

Theorem

Es seien $(\overline{A_1B_1}, \mathcal{S}_1)$ und $(\overline{A_2B_2}, \mathcal{S}_2)$ zwei beseitete Strecken, so dass

$$|A_1B_1| = |A_2B_2|$$

Dann gibt es genau eine Isometrie f , so dass $f(A_1) = A_2$, $f(B_1) = B_2$ und $f(\mathcal{S}_1) = \mathcal{S}_2$.

Beweis: Wir zeigen, dass f existiert. Wir finden eine Bewegung g so dass $g(A_1) = A_2$, $g(B_1) = B_2$. Wenn $g(\mathcal{S}_1) = \mathcal{S}_2$, so ist $f = g$ die gewünschte Isometrie. Sonst sei s die Spiegelung an der Geraden A_2B_2 . Dann ist $f = s \circ g$ die gewünschte Isometrie. Die Eindeutigkeit zeigt genauso wie für Bewegungen.

13. Spiegelnd oder nichtspiegelnd

Wir bemerken, dass jede Isometrie f entweder spiegelnd oder nichtspiegelnd ist.

Eine Bewegung ist nach Definition nichtspiegelnd. Wenn f keine Bewegung ist, so ist f das Kompositum einer Bewegung mit einer Spiegelung: $f = s \circ g$. Wenn die Strecke $(\overline{AB}, \mathcal{S})$ rechtsbeseitet ist, so auch ihr Bild bei g . Wenn man auf das Bild s anwendet erhält man eine linksbeseitete Strecke.

14. Die Gleitspiegelung

Es sei m eine Gerade. Eine Translation T nennt man parallel zu m , wenn m eine invariante Gerade von T ist. Dann kann man schreiben:

$$T = \vec{AB}, \quad \text{wo } A, B \in m.$$

14. Die Gleitspiegelung

Es sei m eine Gerade. Eine Translation T nennt man parallel zu m , wenn m eine invariante Gerade von T ist. Dann kann man schreiben:

$$T = \vec{AB}, \quad \text{wo } A, B \in m.$$

Definition

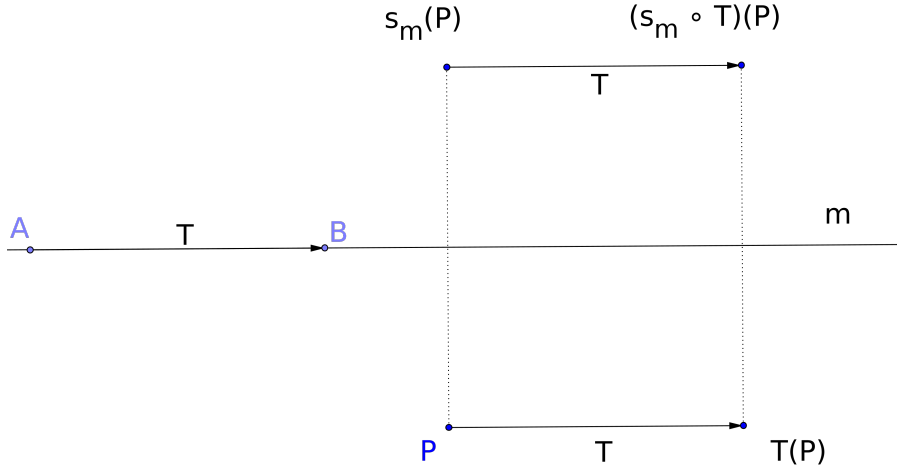
Es sei m eine Gerade und es sei T parallel zu m . Dann gilt:

$$s_m \circ T = T \circ s_m.$$

Wenn $T \neq 0$ heißt dieses Kompositum eine Gleitspiegelung.

Gleitspiegelung

$$(T \circ s_m)(P) = (s_m \circ T)(P)$$



15. Der Hauptsatz über Isometrien

Theorem

Es sei $f : E \rightarrow E$ eine Isometrie. Dann gibt es für f nur vier Möglichkeiten

- (1) f ist eine Translation.*
- (2) f ist eine Drehung.*
- (3) f ist die Spiegelung an einer Geraden.*
- (4) f ist eine Gleitspiegelung bezüglich einer Geraden m .*